

Standardisierte kompetenzorientierte schriftliche  
Reife- und Diplomprüfung / Berufsreifeprüfung

BHS/BRP

16. September 2020

Angewandte Mathematik

Berufsreifeprüfung

Mathematik

Korrekturheft

BAfEP, BASOP, BRP

## Beurteilung der Klausurarbeit

Gemäß § 38 Abs. 3 SchUG (BGBl. Nr. 472/1986 i. d. g. F.) sind die Leistungen der Prüfungskandidatin/des Prüfungskandidaten nach Maßgabe vorliegender Korrektur- und Beurteilungsanleitung aufgrund von begründeten Anträgen der Prüferin/des Prüfers von der jeweiligen Prüfungskommission zu beurteilen.

Für die Beurteilung ist ein auf einem Punktesystem basierender Beurteilungsschlüssel vorgegeben, der auf den Kriterien des § 18 Abs. 2 bis 4 und 6 SchUG und der Leistungsbeurteilungsverordnung (BGBl. Nr. 371/1974 i. d. g. F.) beruht und die Beurteilungsstufen (Noten) entsprechend abbildet.

### Beurteilungsschlüssel:

Note	Punkte
Genügend	23–30 Punkte
Befriedigend	31–37 Punkte
Gut	38–43 Punkte
Sehr gut	44–48 Punkte

Die Arbeit wird mit „Nicht genügend“ beurteilt, wenn insgesamt weniger als 23 Punkte erreicht wurden.

Den Prüferinnen und Prüfern steht während der Korrekturfrist ein Helpdesk des BMBWF beratend zur Verfügung. Die Erreichbarkeit des Helpdesks wird für jeden Prüfungstermin auf <https://ablauf.srdp.at> gesondert bekanntgegeben.

## Handreichung zur Korrektur

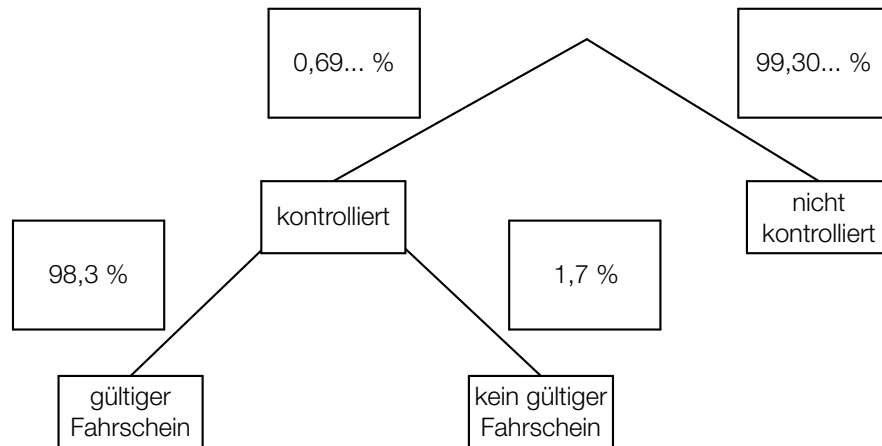
1. In der Lösungserwartung ist ein möglicher Lösungsweg angegeben. Andere richtige Lösungswege sind als gleichwertig anzusehen. Im Zweifelsfall kann die Auskunft des Helpdesks in Anspruch genommen werden.
2. Der Lösungsschlüssel ist **verbindlich** unter Beachtung folgender Vorgangsweisen anzuwenden:
  - a. Punkte sind zu vergeben, wenn die abgefragte Handlungskompetenz in der Bearbeitung erfüllt ist.
  - b. Berechnungen ohne nachvollziehbaren Rechenansatz bzw. ohne nachvollziehbare Dokumentation des Technologieeinsatzes (verwendete Ausgangsparameter und die verwendete Technologiefunktion müssen angegeben sein) sind mit null Punkten zu bewerten.
  - c. Werden zu einer Teilaufgabe mehrere Lösungen von der Kandidatin/vom Kandidaten angeboten und nicht alle diese Lösungen sind korrekt, so ist diese Teilaufgabe mit null Punkten zu bewerten, sofern die richtige Lösung nicht klar als solche hervorgehoben ist.
  - d. Bei abhängiger Punktevergabe gilt das Prinzip des Folgefehlers. Wird von der Kandidatin/vom Kandidaten beispielsweise zu einem Kontext ein falsches Modell aufgestellt, mit diesem Modell aber eine richtige Berechnung durchgeführt, so ist der Berechnungspunkt zu vergeben, wenn das falsch aufgestellte Modell die Berechnung nicht vereinfacht.
  - e. Werden von der Kandidatin/vom Kandidaten kombinierte Handlungsanweisungen in einem Lösungsschritt erbracht, so sind alle Punkte zu vergeben, auch wenn der Lösungsschlüssel Einzelschritte vorgibt.
  - f. Abschreibfehler, die aufgrund der Dokumentation der Kandidatin/des Kandidaten als solche identifizierbar sind, sind ohne Punkteabzug zu bewerten, wenn sie zu keiner Vereinfachung der Aufgabenstellung führen.
  - g. Rundungsfehler sind zu vernachlässigen, wenn die Rundung nicht explizit eingefordert ist.
  - h. Jedes Diagramm bzw. jede Skizze, die Lösung einer Handlungsanweisung ist, muss eine qualitative Achsenbeschriftung enthalten, andernfalls ist dies mit null Punkten zu bewerten.
  - i. Die Angabe von Einheiten ist bei der Punktevergabe zu vernachlässigen, sofern sie nicht explizit eingefordert ist.

# Aufgabe 1

## Fahrscheine

### Möglicher Lösungsweg

a1)



a2)  $P(\text{„kontrolliert und kein gültiger Fahrschein“}) = 0,0069... \cdot 0,017 = 0,00011...$

Die Wahrscheinlichkeit, dass ein zufällig ausgewählter Fahrgast kontrolliert wird und keinen gültigen Fahrschein hat, beträgt rund 0,01 %.

b1)

$\binom{300}{2} \cdot 0,975^{298} \cdot 0,025^2$	A
$1 - \binom{300}{1} \cdot 0,975^{299} \cdot 0,025^1 - \binom{300}{0} \cdot 0,975^{300} \cdot 0,025^0$	D

A	Die Person wird genau 2-mal kontrolliert.
B	Die Person wird genau 2-mal nicht kontrolliert.
C	Die Person wird mindestens 2-mal nicht kontrolliert.
D	Die Person wird mindestens 2-mal kontrolliert.

c1) I:  $x + y = 150000$

II:  $2,6 \cdot x + 1,2 \cdot y = 337500$

c2) Berechnung mittels Technologieinsatz:

$x = 112500$

$y = 37500$

## Lösungsschlüssel

- a1) 1 x A: für das richtige Eintragen der Wahrscheinlichkeiten im Baumdiagramm
- a2) 1 x B: für das richtige Berechnen der Wahrscheinlichkeit
- b1) 1 x C: für das richtige Zuordnen
- c1) 1 x A: für das richtige Erstellen des Gleichungssystems
- c2) 1 x B: für das richtige Berechnen von  $x$  und  $y$

## Aufgabe 2

### Rund um die Heizung

#### Möglicher Lösungsweg

$$\text{a1) } h = r - r \cdot \cos\left(\frac{\alpha}{2}\right)$$

$$\text{a2) } V_{\text{neu}} = (1,2 \cdot r)^2 \cdot \pi \cdot 2 = 1,44 \cdot r^2 \cdot \pi \cdot 2 = 1,44 \cdot V$$

Das Volumen wäre um 44 % größer.

$$\text{b1) } T(0) = 18$$

Um 15 Uhr beträgt die Raumtemperatur 18 °C.

$$\text{b2) } T(1) = 21 \quad \text{oder} \quad 24 - 6 \cdot e^{-\lambda \cdot 1} = 21$$

Berechnung mittels Technologieeinsatz:

$$\lambda = \ln(2) = 0,693\dots$$

#### Lösungsschlüssel

a1) 1 × A: für das richtige Erstellen der Formel

a2) 1 × B: für das richtige Berechnen des Prozentsatzes

b1) 1 × B1: für das richtige Bestimmen der Raumtemperatur

b2) 1 × B2: für das richtige Berechnen des Parameters  $\lambda$

## Aufgabe 3

### Kühe auf der Weide

#### Möglicher Lösungsweg

$$\text{a1) } A = \frac{60 \cdot 20}{2} + \int_{20}^{320} f(x) dx - \frac{100 \cdot 20}{2} \quad \text{oder} \quad A = \int_{20}^{320} f(x) dx - 400$$

$$\text{a2) I: } f(20) = 60$$

$$\text{II: } f(320) = 100$$

oder:

$$\text{I: } a \cdot 20^2 + b \cdot 20 + 52 = 60$$

$$\text{II: } a \cdot 320^2 + b \cdot 320 + 52 = 100$$

b1)

①	
9000	<input type="checkbox"/>

②	
kg/ha	<input type="checkbox"/>

$$\text{c1) } h(t) = 115$$

oder:

$$0,0024 \cdot t^3 - 0,19 \cdot t^2 + 5,73 \cdot t + 73 = 115$$

Berechnung mittels Technologieeinsatz:

$$t = 10,50\dots$$

Im Alter von rund 10,5 Monaten wird gemäß diesem Modell eine Widerristhöhe von 115 cm erreicht.

$$\text{c2) } h''(t) = 0,0144 \cdot t - 0,38$$

$h''$  ist eine steigende lineare Funktion mit der Nullstelle  $t_0 = 26,38\dots$

Für alle  $t < t_0$  ist  $h''(t)$  negativ. Der Graph von  $h$  ist daher für alle  $t < t_0$  (und somit insbesondere für alle  $t \in [1; 24]$ ) negativ gekrümmt.

c3) Die Widerristhöhe nimmt im Alter von 12 Monaten um rund 2,2 cm/Monat zu.

## Lösungsschlüssel

- a1) 1 × A1: für das richtige Erstellen der Formel
- a2) 1 × A2: für das richtige Erstellen des Gleichungssystems
- b1) 1 × C: für das richtige Ergänzen der beiden Textlücken
- c1) 1 × B: für das richtige Berechnen des Alters
- c2) 1 × D: für das richtige Nachweisen mithilfe der 2. Ableitung von  $h$
- c3) 1 × C: für das richtige Interpretieren im gegebenen Sachzusammenhang unter Angabe der zugehörigen Einheit



## Aufgabe 4

### Winterliche Fahrbahnverhältnisse im Straßenverkehr

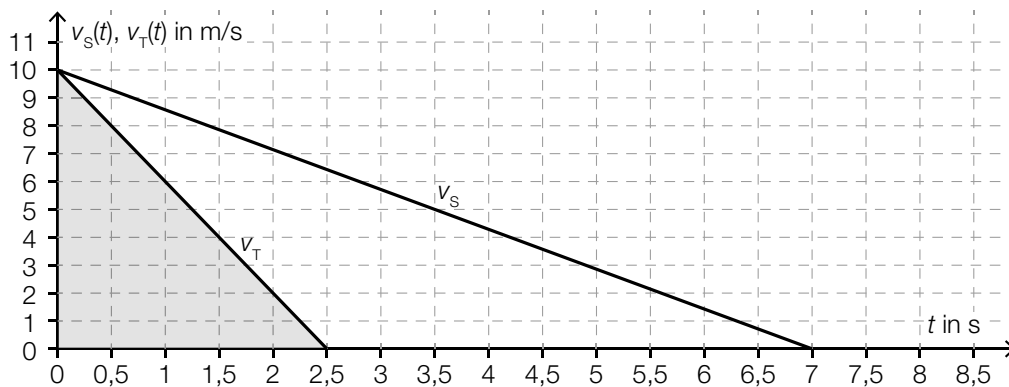
#### Möglicher Lösungsweg

a1)  $\frac{\Delta v_s(t)}{\Delta t} = \frac{-10}{7} = -1,428\dots$

Die Beschleunigung beträgt rund  $-1,43 \text{ m/s}^2$ .

*Wird der Betrag der Beschleunigung angegeben, so ist dies ebenfalls als richtig zu werten.*

a2)



a3) Bremsweg auf schneebedeckter Fahrbahn in m:  $\frac{10 \cdot 7}{2} = 35$

Bremsweg auf trockener Fahrbahn in m:  $\frac{10 \cdot 2,5}{2} = 12,5$

$$35 - 12,5 = 22,5$$

Die Differenz zwischen dem Bremsweg auf schneebedeckter Fahrbahn und dem Bremsweg auf trockener Fahrbahn beträgt 22,5 m.

b1)  $s_A(2) = 44$

Der Abstand des PKW A zur Markierungslinie zur Zeit  $t = 2$  beträgt 44 m.

b2)  $s'_A(3) = 8$

$$s'_B(3) = 12$$

oder:

$$s'_A(t) = -4 \cdot t + 20$$

$$s'_B(t) = -4 \cdot t + 24$$

$$s'_A(t) < s'_B(t)$$

PKW A fährt zur Zeit  $t = 3$  langsamer als PKW B.

**Lösungsschlüssel**

- a1) 1 × C: für das richtige Ermitteln der Beschleunigung auf schneebedeckter Fahrbahn (Wird der Betrag der Beschleunigung angegeben, so ist dies ebenfalls als richtig zu werten.)
- a2) 1 × A: für das richtige Veranschaulichen des Bremswegs auf trockener Fahrbahn
- a3) 1 × B: für das richtige Ermitteln der Differenz der Bremswege
- b1) 1 × B: für das richtige Berechnen des Abstands
- b2) 1 × D: für das richtige Zeigen

## Aufgabe 5

### Pflanzenwachstum

#### Möglicher Lösungsweg

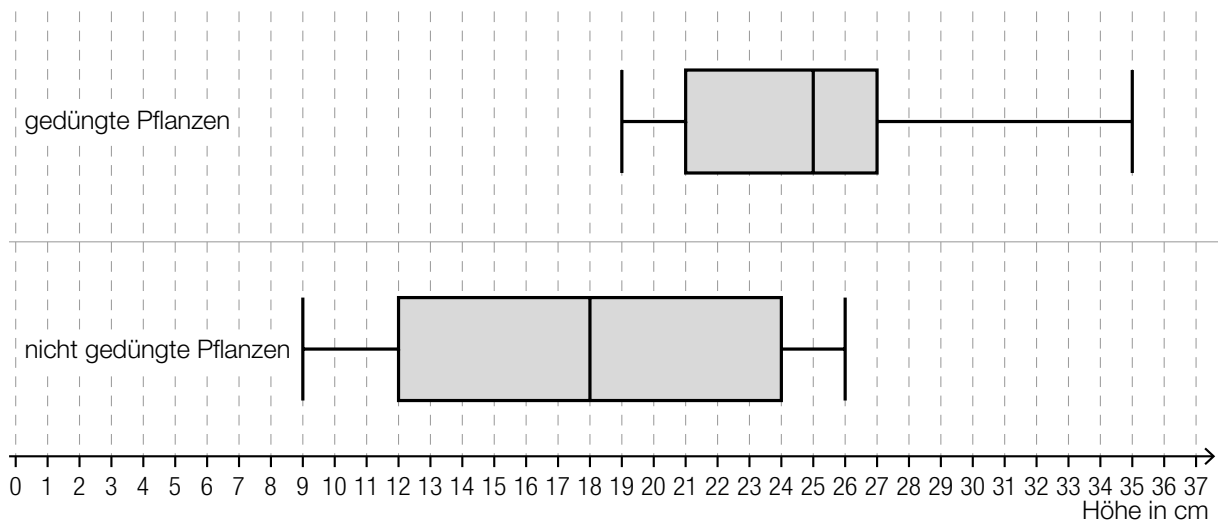
a1) mittlere Änderungsrate der Höhe in Zentimetern pro Tag:  $\frac{6}{20} = 0,3$

a2)

Im Zeitintervall $[0; 20]$ ist die 1. Ableitung streng monoton steigend.	D
Im Zeitintervall $[0; 20]$ ist die 2. Ableitung immer negativ.	A

A	$f$
B	$g$
C	$h$
D	$p$

b1)



b2)  $a = 12$  cm

c1)  $H = H_0 \cdot 1,005^{10}$

oder:

$H = H_0 \cdot 1,0511\dots$

#### Lösungsschlüssel

a1) 1 x B: für das richtige Ermitteln der mittleren Änderungsrate

a2) 1 x C: für das richtige Zuordnen

b1) 1 x A: für das richtige Einzeichnen des Boxplots

b2) 1 x C: für das richtige Angeben des Wertes

c1) 1 x A: für das richtige Erstellen der Formel

## Aufgabe 6 (Teil B)

### Schlafdauer

#### Möglicher Lösungsweg

a1) Berechnung mittels Technologieeinsatz:

$$\bar{x} = 7,8 \text{ h}$$

a2) Ermittlung mittels Technologieeinsatz:

$$f(x) = -0,5857 \cdot x + 7,3714 \quad (\text{Koeffizienten gerundet})$$

$x$  ... Schlafdauer in Stunden

$f(x)$  ... Fernsehzeit bei der Schlafdauer  $x$  in Stunden

a3) Wird die Schlafdauer erhöht, so sinkt die Fernsehzeit.

a4)  $f(7,5) = 2,9\dots$

Bei einer Schlafdauer von 7,5 h beträgt die Fernsehzeit gemäß diesem Modell rund 3 h.

b1) Berechnung mittels Technologieeinsatz:

$$P(300 < X < 480) = 0,889\dots$$

Die Wahrscheinlichkeit beträgt rund 89 %.

b2)  $P(X \geq 400) = P\left(X \leq \boxed{328}\right)$

c1)  $\mu = 410 \text{ min}$

*Toleranzbereich: [405; 415]*

c2) Der Graph der zugehörigen Dichtefunktion ist im Vergleich zum abgebildeten Graphen nach links verschoben.

### Lösungsschlüssel

a1) 1 × B1: für das richtige Berechnen des arithmetischen Mittels

a2) 1 × B2: für das richtige Ermitteln der Gleichung der linearen Regressionsfunktion

a3) 1 × C: für das richtige Interpretieren des Vorzeichens der Steigung im gegebenen Sachzusammenhang

a4) 1 × B3: für das richtige Berechnen der Fernsehzeit

b1) 1 × B: für das richtige Berechnen der Wahrscheinlichkeit

b2) 1 × A: für das richtige Eintragen der fehlenden Zahl

c1) 1 × C1: für das richtige Ablesen des Erwartungswerts (Toleranzbereich: [405; 415])

c2) 1 × C2: für das richtige Beschreiben

## Aufgabe 7 (Teil B)

### Münzen

#### Möglicher Lösungsweg

a1)

	Agnes gewinnt das Spiel in dieser Runde	Bettina gewinnt das Spiel in dieser Runde	Celina gewinnt das Spiel in dieser Runde
Runde 1	$\frac{1}{2}$	$\frac{1}{4}$	$\frac{1}{8}$
Runde 2	$\frac{1}{16}$	$\frac{1}{32}$	$\frac{1}{64}$
Runde 3	$\frac{1}{128}$	$\frac{1}{256}$	$\frac{1}{512}$

a2)  $c_n = c_1 \cdot q^{n-1}$

 $c_n$  ... Wahrscheinlichkeit, dass Celina in Runde  $n$  gewinnt

$$q = \frac{1}{64} : \frac{1}{8} = \frac{1}{8}$$

$$c_n = \frac{1}{8} \cdot \left(\frac{1}{8}\right)^{n-1} \quad \text{oder} \quad c_n = \left(\frac{1}{8}\right)^n$$

b1)  $\alpha = \frac{180^\circ - 30^\circ}{2} = 75^\circ$

$$\beta = 360^\circ - 4 \cdot 75^\circ = 60^\circ$$

c1)

$x_i$	2	3	4
$P(X = x_i)$	$\frac{5}{12} \cdot \frac{4}{11} = \frac{5}{33}$	$\frac{5}{12} \cdot \frac{7}{11} \cdot 2 = \frac{35}{66}$	$\frac{7}{12} \cdot \frac{6}{11} = \frac{7}{22}$

c2)  $E(X) = 2 \cdot \frac{5}{33} + 3 \cdot \frac{35}{66} + 4 \cdot \frac{7}{22} = \frac{19}{6} = 3,166\dots$

Der Erwartungswert beträgt rund € 3,17.

## Lösungsschlüssel

- a1) 1 × A1: für das richtige Vervollständigen der Tabelle
- a2) 1 × A2: für das richtige Aufstellen des expliziten Bildungsgesetzes
- b1) 1 × B: für das richtige Ermitteln der Winkel  $\alpha$  und  $\beta$
- c1) 1 × A: für das richtige Vervollständigen der Tabelle
- c2) 1 × B: für das richtige Berechnen des Erwartungswerts

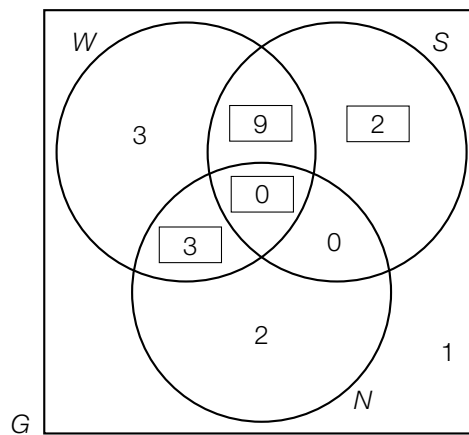
# Aufgabe 8 (Teil B)

## Fitnessgymnastik

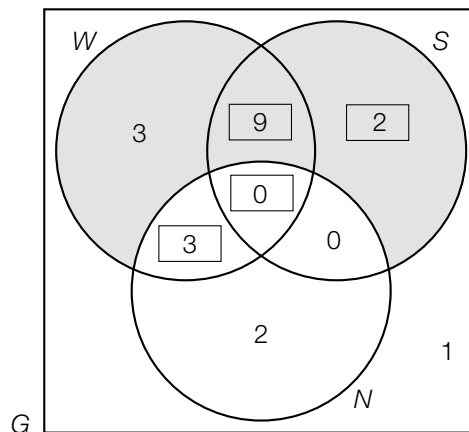
### Möglicher Lösungsweg

a1) Es gibt 1 männliche Person, die weder zu den Senioren gehört noch neu eingetragen ist.

a2)



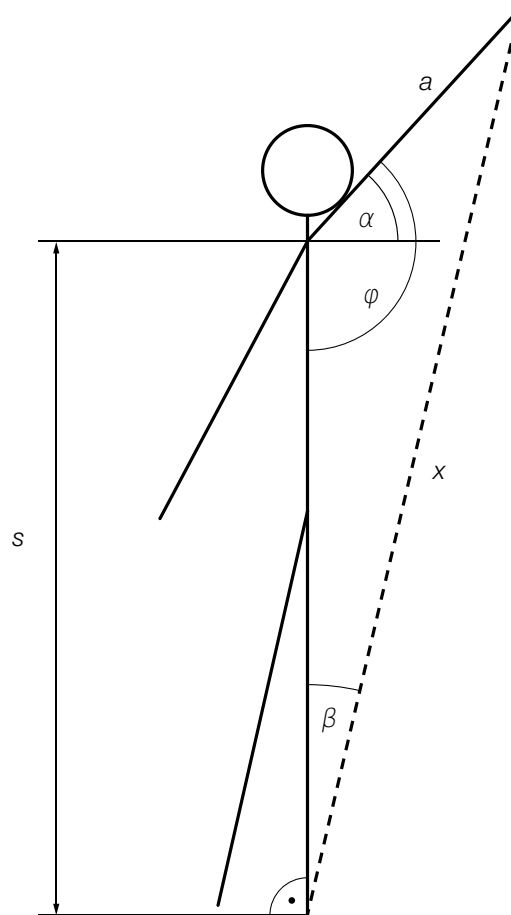
a3)



a4)

$m = 2 \cdot w$	<input checked="" type="checkbox"/>

b1)



$$\text{b2) } x = \sqrt{a^2 + s^2 - 2 \cdot a \cdot s \cdot \cos(90^\circ + \alpha)} \quad \text{oder} \quad x = \sqrt{a^2 + s^2 + 2 \cdot a \cdot s \cdot \sin(\alpha)}$$

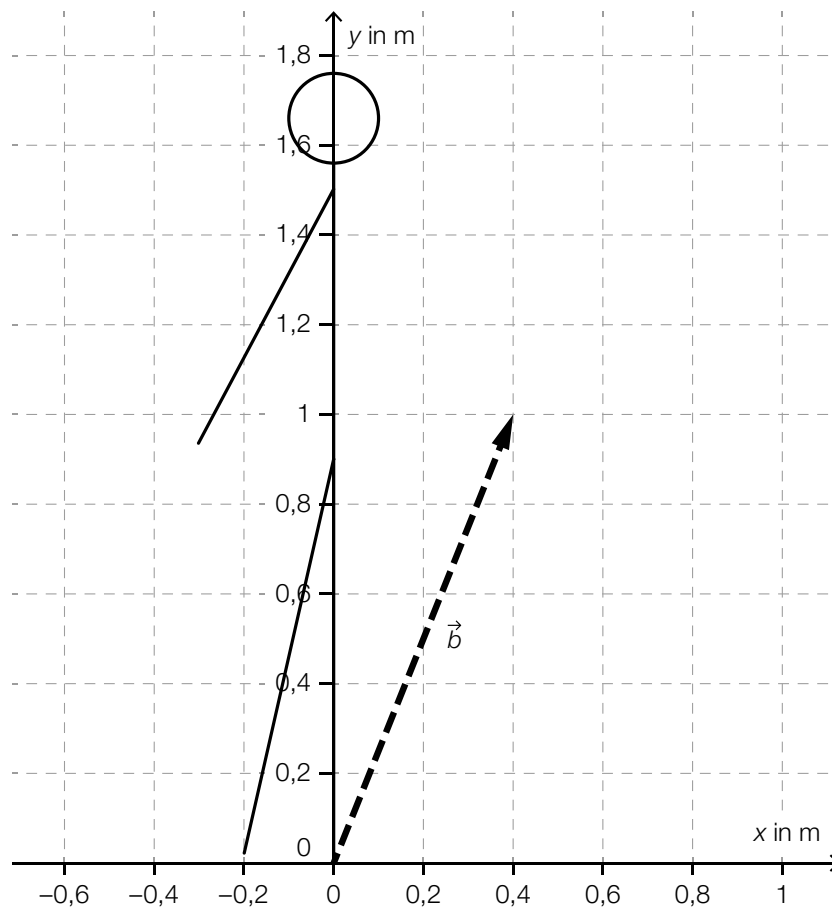
Auch eine Verwendung des richtig eingezeichneten Winkels  $\varphi$  in der Formel ist als richtig zu werten.

$$\text{b3) } x = \sqrt{0,7^2 + 1,5^2 - 2 \cdot 0,7 \cdot 1,5 \cdot \cos(90^\circ + 48^\circ)} = 2,07\dots$$

Die Länge des gedehnten Fitnessbands beträgt rund 2,1 m.



c1)



$$\text{c2) } \cos(\gamma) = \frac{\begin{pmatrix} 0,4 \\ 1 \end{pmatrix} \cdot \begin{pmatrix} 0 \\ 1 \end{pmatrix}}{\sqrt{0,4^2 + 1^2 \cdot 1}} \Rightarrow \gamma = 21,8\dots^\circ$$

oder:

$$\tan(\gamma) = 0,4 \Rightarrow \gamma = 21,8\dots^\circ$$

Der Winkel beträgt rund  $22^\circ$ .

$$\text{c3) } \sqrt{40^2 + 100^2} = 107,7\dots$$

Die Länge des ungedehnten Fitnessbands beträgt rund 108 cm.

### Lösungsschlüssel

- a1) 1 × C1: für das richtige Beschreiben im gegebenen Sachzusammenhang
- a2) 1 × A: für das richtige Vervollständigen des Venn-Diagramms
- a3) 1 × C2: für das richtige Kennzeichnen der Menge  $(W \cup S) \setminus W$
- a4) 1 × C3: für das richtige Ankreuzen
- b1) 1 × C: für das richtige Einzeichnen des Winkels  $\varphi$
- b2) 1 × A: für das richtige Erstellen der Formel
- b3) 1 × B: für das richtige Berechnen von  $x$
- c1) 1 × A: für das richtige Einzeichnen des Vektors
- c2) 1 × B1: für das richtige Berechnen des Winkels
- c3) 1 × B2: für das richtige Berechnen der Länge auf ganze Zentimeter gerundet